


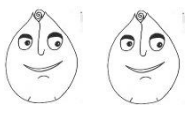
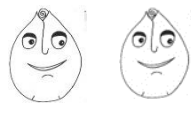


<b>ČJ</b> 	<b>Slabikář do str. 75</b> Bezpečně čtu slova a věty s Ž, Ř. Pracuji podle popisu pracovního postupu.	
<b>PSANÍ</b> 	<b>Písanka do str. 3</b> Píšu psacím písmem k. Při psaní rozlišuji tiskací a psací písmo.	
<b>M</b> 	<b>Matematika do str. 86</b> Vymyslím příklady s danými čísly. Děním předměty mezi dvě a tři děti.	
<b>SKN</b> 	<b>Prvouka do str. 64</b> Popíšu správné chování v krizových situacích. Pozoruji rozdíly mezi vodními toky v Kunraticích.	
<b>AJ</b> 	Odhadnu a ověřím, co plave a neplave ve vodě. Pojmenuji a rozliším počasí.	

1. **Uvař kaši podle návodu v slabikáři str. 75.** Fotku z vaření můžeš poslat do třídní skupiny pro ocenění od spolužáků.

Napiš, čím jsi kaši nakonec posypal(a) \_\_\_\_\_

2. **Hádej.**

Vaří se to,  
peče se to,  
nejí se to.

ELJEPŠ \_\_\_\_\_

Čtyři rohy,  
žádné nohy,  
chodí to, stojí to.

EŘEVD \_\_\_\_\_

Přišel k nám panáček,  
měl červený fráček.  
Když jsme ho svlékali,  
všichni jsme plakali.

ELUBIC \_\_\_\_\_

Je soudeček bez obrouček,  
v něm je dvojí víno,  
a přece se nesmíchá.

ECJEV \_\_\_\_\_

3. **Přečti a nakresli.**

3 řepy

4 ořechy

hříbek

hřebík

hřeben

4. Vymysli a napiš věty se slovy ČERT, ŘEKA, LIŠKA, ŽÍŽALA.

---



---



---




---

5. Vypočítej. Pozor, při tvoření čísla 8 použijej pouze čísla z nabídky.

Jsou napsaná v  $\triangle$   $\circ$   $\square$ .

DOPLŇ

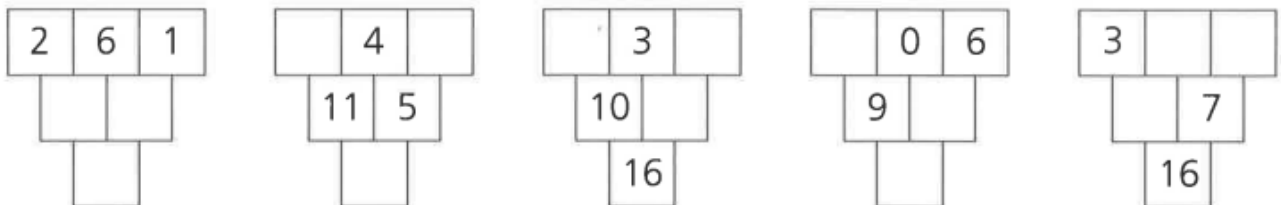
$6 + 10 = \square$	$4 + \square = 12$	$\square - 4 = 6$
$4 + 12 = \square$	$16 - \square = 6$	$\square + 3 = 6$
$11 + 3 = \square$	$15 - \square = 9$	$\square + 11 = 16$
$16 - 8 = \square$	$6 + \square = 10$	$\square - 11 = 2$
$13 - 10 = \square$	$13 - \square = 7$	$\square - 3 = 12$



SPOJ TŘI ČÍSLA A VYTVOŘ 8

$8 = \triangle + \circ + \square$     
  $8 = \triangle + \circ + \square$     
  $8 = \triangle + \circ + \square$

DOPLŇ ČÍSLA



- Doplním neposedy do hadů <https://www.skolasnadhledem.cz/game/1907>
- Hadi jinak <https://www.skolasnadhledem.cz/game/2382>
- Doplně písmeno <https://www.skolasnadhledem.cz/game/1383>

